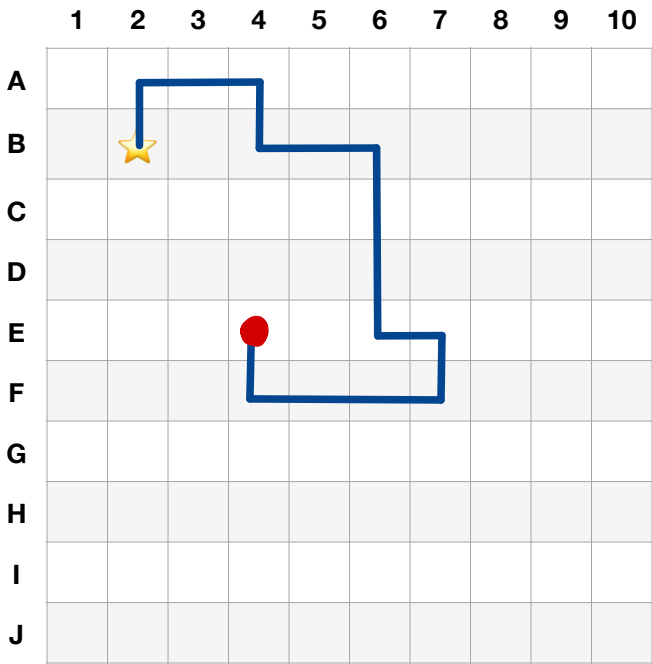



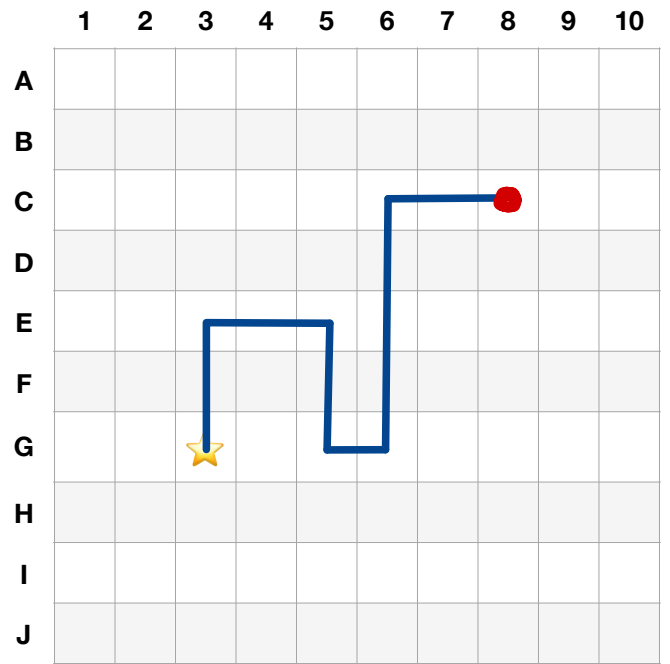
Parcours 1



Pars de l'étoile, trace le chemin.
Sur quelle case arrives-tu ?



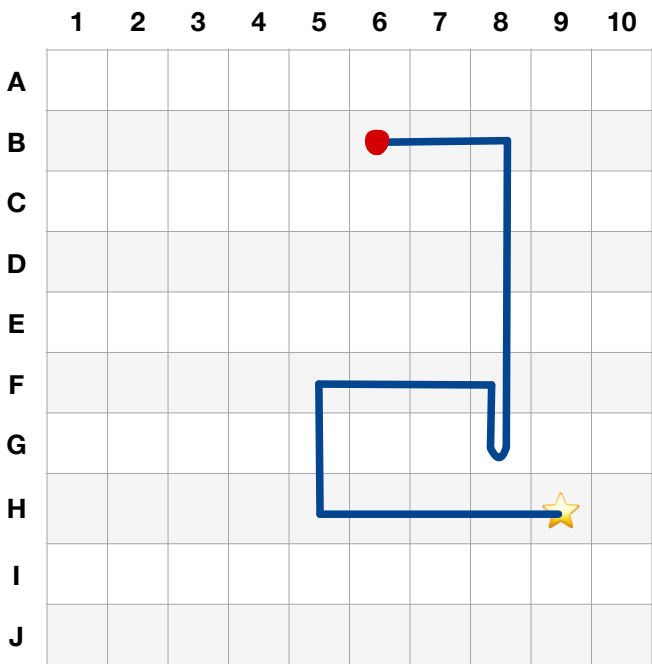
Parcours 2



Pars de l'étoile, trace le chemin.
Sur quelle case arrives-tu ?



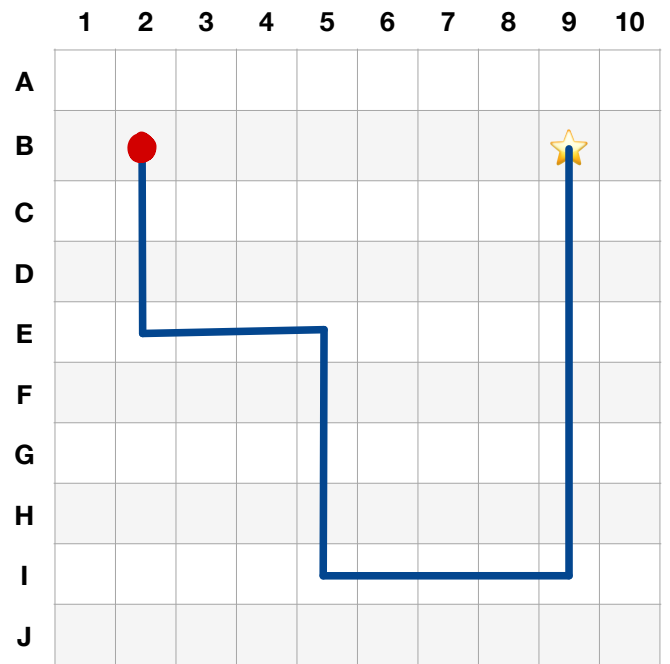
Parcours 3



Pars de l'étoile, trace le chemin.
Sur quelle case arrives-tu ?



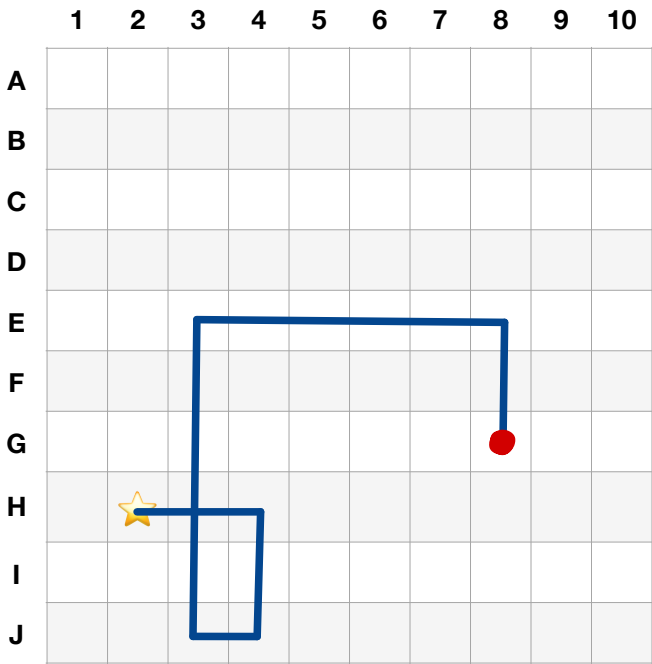
Parcours 4



Pars de l'étoile, trace le chemin.
Sur quelle case arrives-tu ?



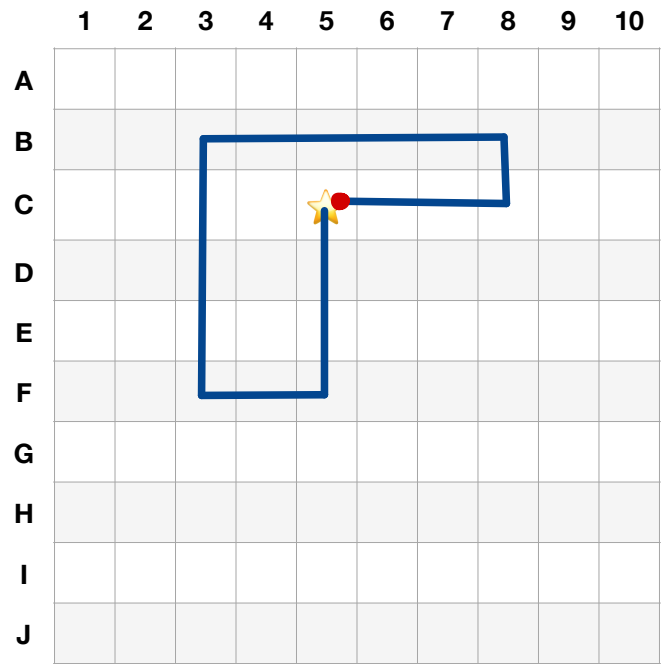
Parcours 5



Pars de l'étoile, trace le chemin.
Sur quelle case arrives-tu ?

★ 2 → - 2 ↓ - 1 ← - 5 ↑ - 5 → - 2 ↓

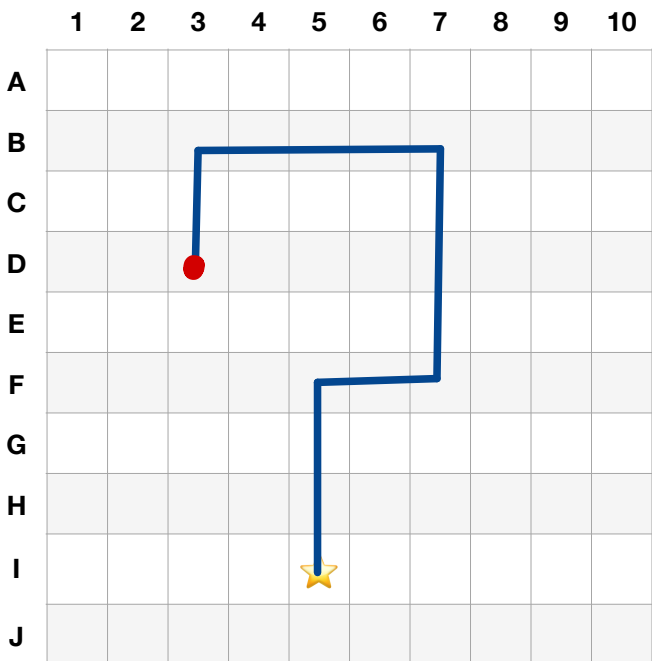
Parcours 6



Pars de l'étoile, trace le chemin.
Sur quelle case arrives-tu ?

★ 3 ↓ - 2 ← - 4 ↑ - 5 → - 1 ↓ - 3 ←

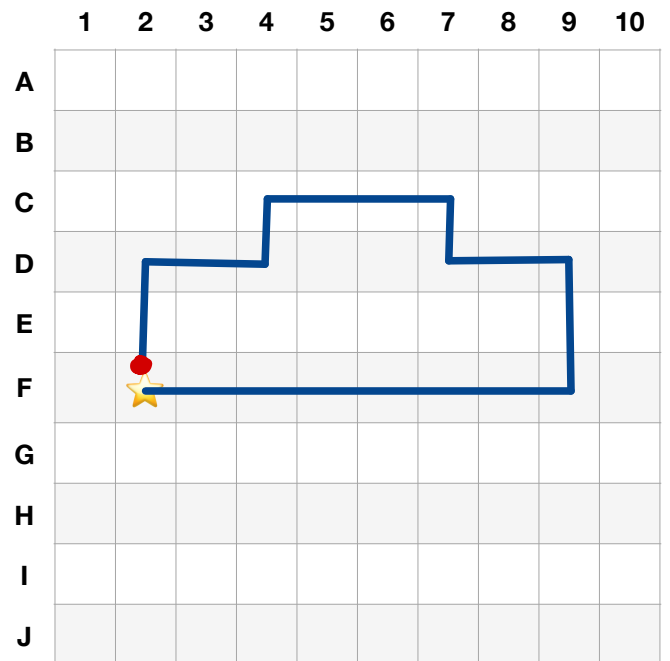
Parcours 7



Pars de l'étoile, trace le chemin.
Sur quelle case arrives-tu ?

★ 3 ↑ - 2 → - 4 ↑ - 4 ← - 2 ↓

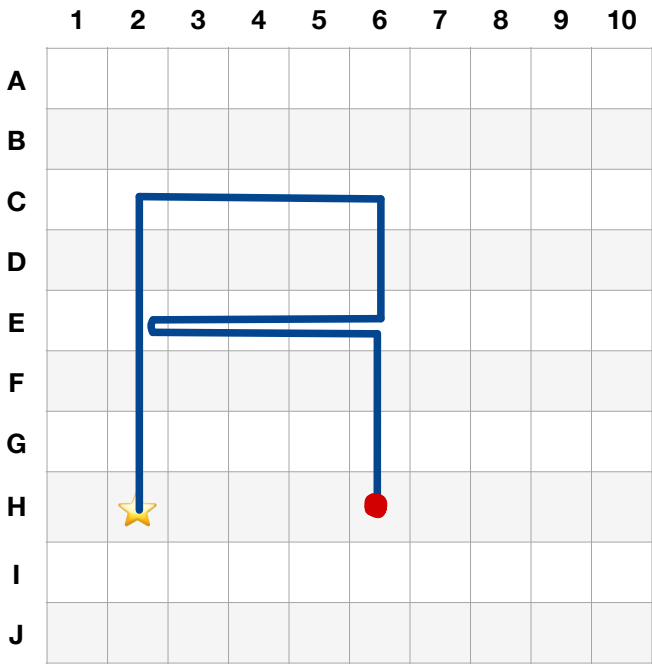
Parcours 8



Pars de l'étoile, trace le chemin.
Sur quelle case arrives-tu ?

★ 7 → - 2 ↑ - 2 ← - 1 ↑ - 3 ←
1 ↓ - 2 ← - 2 ↓

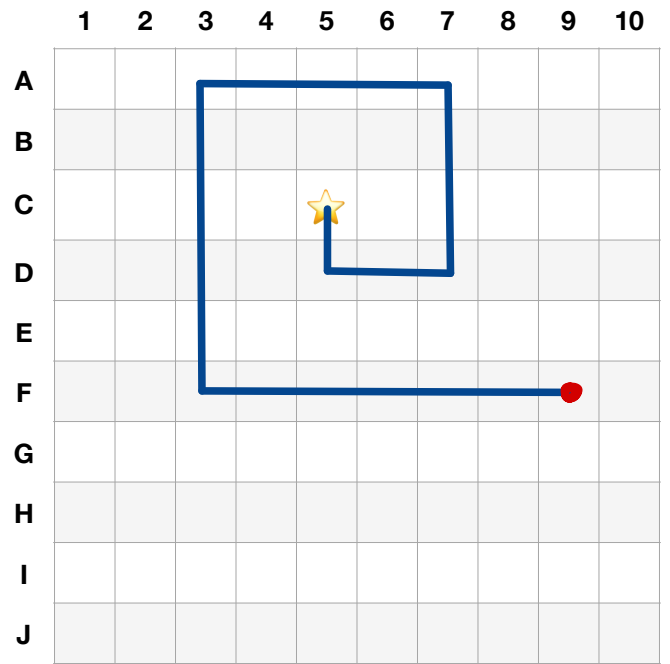
Parcours 9



Pars de l'étoile, trace le chemin.
Sur quelle case arrives-tu ?

★ 5 ↑ - 4 → - 2 ↓ - 4 ← - 4 → - 3 ↓

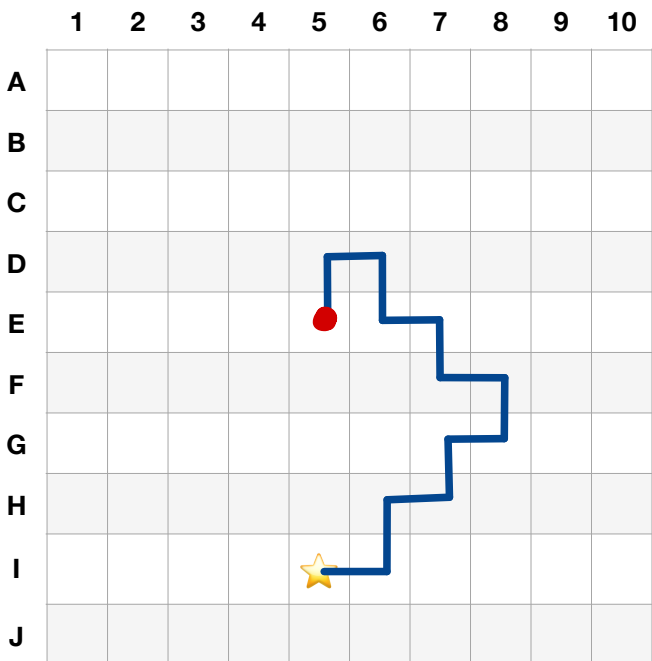
Parcours 10



Pars de l'étoile, trace le chemin.
Sur quelle case arrives-tu ?

★ 1 ↓ - 2 → - 3 ↑ - 4 ← - 5 ↓ - 6 →

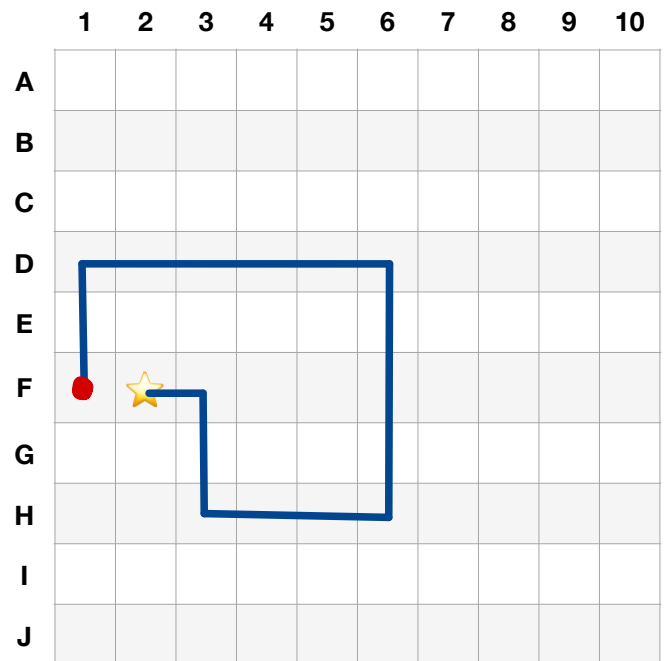
Parcours 11



Pars de l'étoile, trace le chemin.
Sur quelle case arrives-tu ?

★ → ↑ → ↑ → ↑ ← ↑ ← ↑ ← ↓

Parcours 12



Pars de l'étoile, trace le chemin.
Sur quelle case arrives-tu ?

★ 1 → - 2 ↓ - 3 → - 4 ↑ - 5 ← - 2 ↓